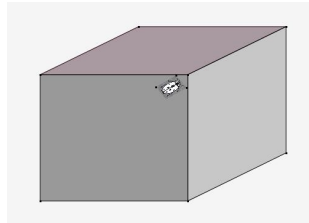
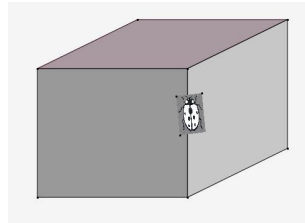


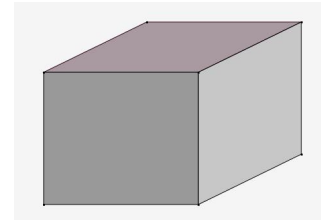
Cas n°1



Cas n°2



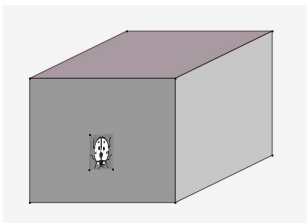
Cas n°3



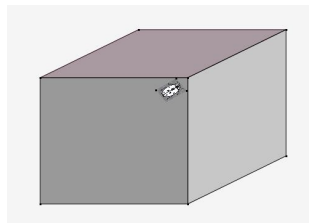
Cas n°4

En cours de SVT, tu as observé une coccinelle qui se déplace sur une boîte posée sur une table. La situation a été schématisée par les dessins ci-dessus.

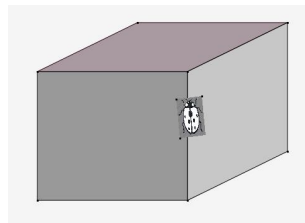
Explique le plus précisément possible où se trouve la coccinelle dans chacun des quatre cas.



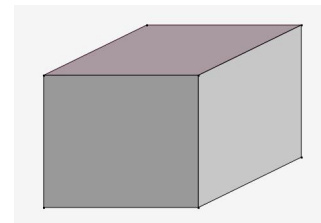
Cas n°1



Cas n°2



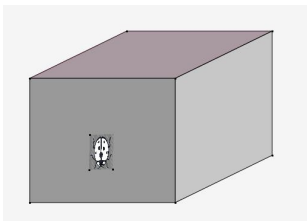
Cas n°3



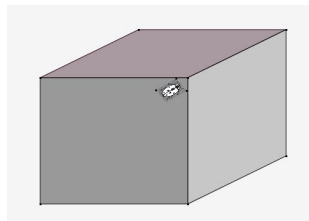
Cas n°4

En cours de SVT, tu as observé une coccinelle qui se déplace sur une boîte posée sur une table. La situation a été schématisée par les dessins ci-dessus.

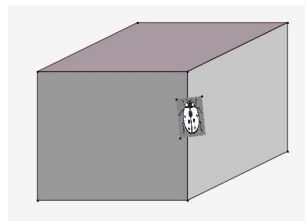
Explique le plus précisément possible où se trouve la coccinelle dans chacun des quatre cas.



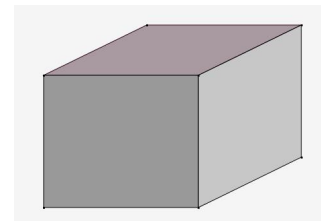
Cas n°1



Cas n°2

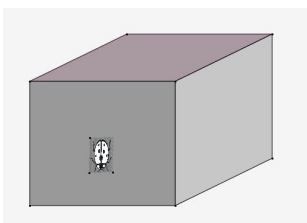


Cas n°3

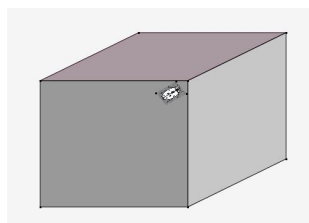


Cas n°4

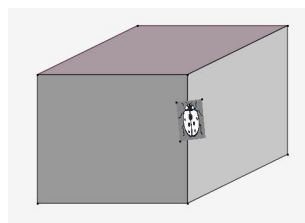
Explique le plus précisément possible où se trouve la coccinelle dans chacun des quatre cas.



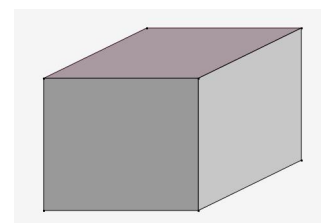
Cas n°1



Cas n°2



Cas n°3



Cas n°4

Explique le plus précisément possible où se trouve la coccinelle dans chacun des quatre cas.

